



SIIRT İL MİLLİ EĞİTİM MÜDÜRLÜĞÜ

2021

ORTAOKUL

22 - 26 ŞUBAT

6

ÖDEU TAKİP SİSTEMİ

0484 223 10 28

arge56@meb.gov.tr

siirt.meb.gov.tr

@mem_siirt

@siirtmem

1) “Konserdeki altın sesli şarkıcıyı eğlenerek dinledik.”

Cümlesindeki altı çizili sözcüklerden hangisi gerçek anlamın dışında kullanılmıştır?

- A) altın B) sesli
C) şarkıcı D) eğlenerek

2) Bir şeyi olduğundan çok veya az göstererek anlatan cümlelere abartma cümlesi denir.

Yukarıda verilen bilgiye göre aşağıdaki cümlelerin hangisi abartma cümlesidir?

- A) Yazarın çalışma masası darmadağınktı.
B) Elmayı tam ortasından ikiye böldü.
C) Ayılar somon balığını sever.
D) Pire kadar boyuyla bana kafa tutuyor.

3)Aşağıdaki cümlelerin hangisinde topluluk ismi kullanılmıştır?

- A) Siz akşam nereye gittiniz?
B) İleride büyük bir orman var.
C) Askerler savaşımaya hazır.
D) Yemekten sonra tatlı yiyelim.

4)Aşağıdaki cümlelerin hangisinde hem niteleme hem belirtme sıfatı kullanılmıştır?

- A) Zor zamanlarda bazı değişiklikler yaptık.
B) Onu görmeyeli uzun zaman oldu.
C) Bu gece yağmur başlayacak.
D) Eski arkadaşlarımızla dün görüştük.

5)Palmiye dalı olmayan bir ağaç türüdür. Bir gövdede birçok yaprak çıkan bir ağaçtır. En uzun palmiye ağacı 30 metreye kadar uzayabilmektedir. En yaygın görüldüğü yerler Asya, Amerika, Büyük Okyanus Adaları ve Afrika'dır. Hurma da palmiye türünden bir ağacın meyvesidir.

Bu parçada “palmiye” ile hangi bilgiye yer verilmemiştir?

- A) Biçimsel özelliğine
B) Uzunluğuna
C) Rengine
D) En sık görüldüğü yere

- 1) Şiir insanı değiştirir.
- 2) Bazı şairler karamsar şiirler yazar.
- 3) Güzel bir şiir ruhunuza dokunur, sizi içine alarak etkisini gösterir.
- 4) Bir okuyucu şiir okumadan başka, okuduktan sonra ise başka bir insandır.

6) Numaralandırılmış cümlelerden bir paragraf oluşturulursa hangi cümle paragrafın dışında kalır?

- A) 1 B) 2 C) 3 D) 4

7) Aşağıdaki altı çizili sözcüklerin hangisinde yazım yanlışı vardır?

- A) Okullar, şubatın ikinci haftası açılabilir.
- B) 1'inci kattaki ev ışık almıyordu.
- C) THY'nin uçakları oldukça konforludur.
- D) Akılından geçenleri okuyamıyordum

8)Aşağıdaki cümlelerde yer alan tamlamalardan hangisi farklıdır?

- A) Sınav kâğıtlarını yarın okurum.
- B) Ödevimin kapağı güzel oldu.
- C) Bebeğin gözleri kızarmıştı.
- D) Masalın sonu güzel bitti.

9)İsimler yapıca basit, türemiş, birleşik olmak üzere üçe ayrılır.

Aşağıdaki örneklerden hangisi türemiş-basit-birleşik sıralamasına göre verilmiştir?

- A) yardımsever-kitap-kalemlerim
- B) dersim-renkler-karabiber
- C) çiçekçiler-kaşık-başhekim
- D) kelime-bardaklarım-peçetelik

10) Öğlen, on beş dakika kadar dinlendi. Biraz kuru ekmeğe ağzına attı ve karpuzdan ısırıldı. Karpuzun tadı pek iyi değildi. Tekrar işinin başına koyuldu. Köşede duran gramofonu aldı. Kendisine bir plak seçti. Çalan müzikle iş yapmanın keyfi başkaydı.

Yukarıdaki parçada hangi duyu organı ile algılanabilen ayrıntıya yer verilmemiştir?

- A) Görme
- B) Tatma
- C) İşitme
- D) Koklama

11) Aşağıdakilerden hangisinde "diye" sözcüğü cümleye amaç- sonuç anlamı katmamıştır?

- A) Evi temizleyeyim diye süpürgeyi aradım.
- B) Cam açık diye kedi mutfağa girmiş.
- C) Mutsuz olmasın diye gideceğini ondan gizlemiş.
- D) Kuşlar özgür olsun diye Ali kafesi açmış

12) Aşağıdakilerden hangisinde olaya dayalı yazı türleri bir arada verilmiştir?

- A) Haber metni Anı Fabl
- B) Fabl Mektup Haber metni
- C) Tiyatro Gezi yazısı Mektup
- D) Masal Anı Hikaye

Ben giderim adım kalır

Dostlar beni hatırlasın

Düğün olur bayram gelir,

Dostlar beni hatırlasın.

13) Bu dizelerdeki altı çizili sözcüklerden hangisi kök halinde değildir?

- A) Ben B) Düğün
- C) Dostlar D) Bayram

14) Aşağıdaki cümlelerde altı çizili tamlamalardan hangisinin türü diğerlerinden farklıdır?

- A) Yeni bir kitabı okumadan önce mutlaka kitapla ilgili araştırma yaparım.
- B) Köyün en ücra ve kalabalık yerlerinde dolaşır, köyün nabzını tutarım.
- C) İnsanların derdini anlamaya çalışır, onlara yardımcı olurum.
- D) Hayat bir öyküye benzer; önemli olan eserin uzunluğu değil, iyi olmasıdır.

15) "Oyun ... kuralına göre oynarsan daima kazanırsın." Cümlesinde baş bırakılan yere getirilecek ek aşağıdakilerden hangisidir?

- A) Belirtme hal eki
- B) Bulunma hal eki
- C) Yönelme hal eki
- D) 3. Tekil şahıs iyelik eki

Okul -lar -da

Sev-

-lık /lik

Türk -Alman

16) Yukarıdaki örneklerle kısa çizginin aşağıda verilen işlevleri eşleştirildiğinde hangisi dışarıda kalır?

- A) Kelimelerin eklerini ve köklerini ayırmak için kullanılır.
- B) Fiil kök ve gövdelerini göstermek için kullanılır.
- C) Eklerin başında ve sonunda kullanılır.
- D) Heceleri göstermek için kullanılır.

17) Uçağımız Diyarbakır havaalanına indi. İlk bakışta Diyarbakır büyük bir parkı andırıyordu. Bizleri abimlere götüren taksi şehre yaklaştıkça görünüm daha da etkileyici oluyordu. Karşımıza görkemli Surlardan oluşan duvarlar çıkıyordu. Bu haliyle Diyarbakır, bir kale şehrini andırıyordu.

Bu metnin dil ve anlatımı için aşağıdakilerden hangisi söylenemez?

- A) Gözlem yapılmıştır.
- B) Nesnellik ön plandadır.
- C) Gezi yazısından alınmıştır.
- D) Benzetmeye yer verilmiştir.

Ağaçlardan basit bir sal yaparak nehirde yol aldı.

Yaramazlık yapan kediyi görevli dışarı saldı.

18) Bu cümledeki altı çizili sözcükler arasındaki ilişki aşağıdakilerden hangisidir?

- A) Sesteşlik
- B) Anlamdaşlık
- C) Yakın anlamlılık
- D) Karşıt anlamlılık

19) Mina, Defne, Ali, Asel ve Emir okul kantininden alışveriş yapmıştır. Kantinden çay, tost ayran ve kek alan bu öğrencilerle ilgili bilinenler şunlardır:

- İki kişi yalnızca çay almıştır.
- Üç öğrenci farklı ürünler almıştır.
- Mina çay alanlardan biridir.
- Emir ayran almıştır.
- Çay alanlardan biri erkektir.

Bu bilgilere göre, tost ve kek alabilecek öğrenciler aşağıdakilerden hangisinde birlikte verilmiştir?

- A) Mina -Ali
- B) Defne- Ali
- C) Asel -Emir
- D) Defne -Mina

1. Mesajında "Seni Özledim" demişsin.
2. Mesajını bugün aldım.
3. Ben de seni özledim biricik kardeşim!
4. Benim Canım Kardeşim,
5. Hiç vakit kaybetmeden ben de sana mesaj yazmak istedim.

20) Numaralandırılmış cümlelerle anlamlı bir paragraf oluşturulursa sıralama aşağıdakilerden hangisi olur?

- A) 2-3-1-5-4
- B) 1-3-4-5-2
- C) 4-1-3-2-5
- D) 4-2-5-1-3

Ondalık Gösterimi Verilen Sayılarda Yuvarlama

Bir ondalık kesri istenilen bir basamağa göre yuvarlarken verilen basamağın sağındaki ilk rakam 5 ile karşılaştırılır. Bu rakamın sayı değeri;

5 ya da 5'ten büyük ise verilen basamaktaki rakamın sayı değeri 1 arttırılır.

5'ten küçük ise verilen basamaktaki rakam aynen yazılır. Daha sonra sağındaki diğer basamaklar atılır.

Ondalık Gösterimlerde Çarpma İşlemi

Ondalık gösterimlerin çarpımı yapılırken; virgöl yokmuş gibi düşünülüp sayılar virgülsüz olarak çarpılır. Sonra elde edilen sayı, çarpanların virgülden sonraki basamak sayıları toplamı kadar, sağdan sola doğru virgöl ile ayrılır.

1) Aşağıda verilen çarpma işlemlerinden hangisinin sonucu yanlıştır?

- A) $27,3 \times 10 = 273$
 B) $40,3 \times 100 = 4030$
 C) $16,378 \times 10 = 163,78$
 D) $54,03 \times 100 = 54030$

2) $18 \times 0,25$ işleminin sonucu kaçtır?

- A) 0,045 B) 0,450
 C) 4,5 D) 45

3) $(78,5 \times 0,16) + 0,36$ işleminin sonucunun onda birler basamağına yuvarlanmış hâli aşağıdakilerden hangisidir?

- A) 12,9 B) 0,129
 C) 1,29 D) 129

4) 4,5A9 ondalık gösteriminin en yakın onda birliğe yuvarlanmış hali 4,5 'tir.

Buna göre "A" yerine kaç farklı rakam yazılabilir?

- A) 5 B) 4
 C) 3 D) 2

5) Aşağıdakilerden hangisi 1,73 sayısına eşittir?

- A) 10,73 B) 1,073
 C) 1,730 D) 1,703

6) 7,4557 sayısının yüzde birler basamağına göre yuvarlanmış hali aşağıdakilerden hangisidir?

- A) 7,45 B) 7,46
 C) 7,455 D) 7,456

7) Aşağıda ondalık gösterimi verilen sayılardan hangisinin onda birler basamağına yuvarlanmış hali diğerlerinden farklıdır?

- A) 3,145 B) 3,154
C) 3,155 D) 3,161

8) 2,8a sayısını onda birler basamağına yuvarladığımızda sayının kendisinden daha küçük bir sayı elde edebilmek için a yerine aşağıdaki rakamlardan hangisi yazılamaz?

- A)0 B)2
C)4 D)6

9) 5,7465 ondalık açılımına göre, aşağıdakilerden hangisi yanlıştır.

- A) Binde birler basamağına göre yaklaşık değeri 5,747 dir.
B) Yüzde birler basamağına göre yaklaşık değeri 5,75 dir.
C) Onda birler basamağına göre yaklaşık değeri 5,8 dir.
D) Tam kısmına göre yaklaşık değeri 6 dir.

10) Aşağıdakilerden hangisi, birler basamağına göre yuvarlandığında 3, onda birler basamağına göre yuvarlandığında 2,5 olur?

- A) 2,52
B) 2,55
C) 3,51
D) 3,64

11) 2021 yılı itibariyle İstanbul için **taksimetre açılış ücreti** 5,55 TL olarak belirlendi. Yolcular kilometre başına 3,45 TL ödüyor.



Taksiye binen Ahmet bey 14,3 km yol gidiyor. Buna göre ahmet beyin ödeyeceği taksi ücreti kaç TL olur?

- A) 19,1475
B) 33,4475
C) 49,335
D) 54,885

12) 12,ab ondalık gösteriminin kesir kısmında iki basamaklı ab sayısı bulunmaktadır. Bu ondalık gösterimin onda birler basamağına yuvarlanmış hali 12,7 olduğuna göre a + b değerinin alabileceği en büyük değer kaçtır?

- A) 7 B) 11 C) 13 D) 15

13)

- I. 7,78 → 7,7
 II. 2,754 → 2,7
 III. 5,267 → 5,27
 IV. 15,625 → 15,6

Yukarıda ondalık gösterimli sayıların onda birler basamağına göre yuvarlanmış biçimleri yanlarına yazılmıştır. Bu yuvarlamalardan kaç tanesi yanlıştır?

- A) 4 B) 3 C) 2 D) 1

14)

x	1,2	0,05
0,4	a	b
8	c	d

Yukarıdaki çarpım tablosunda a,b,c ve d yerine aşağıdakilerden herhangi birisi gelemez?

- A) 0,48
 B) 0,4
 C) 0,02
 D) 8,6

15) 21,4■6 ondalık gösteriminin yüzde birler basamağına yuvarlanmış hali 21,53 olduğuna göre ■ yerine gelmesi gereken rakam kaçtır?

- A) 1 B) 2 C) 3 D) 5

16) “Beş tam binde altı yüz yirmi yedi”

Yukarıda okunuşu verilen ondalık gösterimin yüzde birler basamağına yuvarlanmış hali aşağıdakilerden hangisidir?

- A) 6 B) 5,63
 C) 5,66 D) 5,67

17)

5,814 → 5,8
0,273 → 0,3
2,43 → 2,4

Yukarıdaki tabloda sayılar ve bu sayıların oklarla gösterilen karşılıkları arasında bir ilişki vardır.

Buna göre bu ilişki aşağıdakilerden hangisinde vardır?

- A) 1,473 → 1
 B) 1,473 → 1,47
 C) 1,473 → 1,4
 D) 1,473 → 1,5

18) 35,648 ondalık gösterimi yüzde birler basamağına göre yuvarlandığında elde edilen ondalık gösterim 34,6■ ondalık gösteriminden küçüktür.

Buna göre ■ sembolü yerine aşağıdakilerden hangisi yazılabilir?

- A) 3 B) 4
C) 5 D) 6

19) Her birinin ağırlığı 0,25 kg olan 22 kutu şeker bir koliye yerleştiriliyor.

Buna göre kolideki şekerlerin kütleleri toplamı kaç kilogramdır?

- A) 5 B) 5,5
C) 6 D) 6,5

20)



Yukarıdaki sayı doğrusunda yerleri gösterilen A ve B sayılarının çarpımı kaçtır?

- A) 1,863 B) 1,793
C) 1,642 D) 1,572

ÜNİTE: Madde ve Isı

KONU: Maddenin Tanecikli Yapısı

KAZANIM:F.6.4.1.1. Maddelerin; tanecikli, boşluklu ve hareketli yapıda olduğunu ifade eder.

F.6.4.1.2. Hâl değişimine bağlı olarak maddenin tanecikleri arasındaki boşluk ve taneciklerin hareketliliğinin değiştiğini deney yaparak karşılaştırır.

MADDE: Kütlesi ve hacmi olan her şey maddedir.

- Maddeyi oluşturan ve maddenin özelliğini gösteren en küçük kısma maddenin **taneciği (atom)** denir.
- Bütün maddeler tanecikli yapıdadır.
- Isı, ışık, ses ve elektrik madde değil, enerjidir.
- Madde tanecikli yapıdadır.

Maddenin taneciklerden oluştuğunu nasıl anlarız

1. Gaz maddelerin sıkıştırılabilmesi
Şırınganın ağzını kapatıp pistona bastırdığımızda havanın sıkıştığını gözleriz.

Hava taneciklerden oluşmuştur. Bu tanecikler arasındaki boşluk çok fazla olduğu için kolaylıkla sıkışabilmektedir. Gazların sıkışabilme özelliği araçların lastiğinde, yangın tüplerinde, toplarda kullanılmaktadır. Gazlarda boşluk bulunması gazların bütünsel olmadığını gösterir.

2. İyodun alkolde dağılması
İyot alkol içinde her yere dağılır. Bunu renk değişiminden gözleriz.

3. Şekerin ve tuzun suda çözünmesi
Şeker ve tuz su içinde dağılır, şeker ve tuzun tadını her yerde alabiliriz.

Tuz ve şekerin taneciklerinin su içerisinde dağılmasından kaynaklanmaktadır.

4. Boyanın suda dağılması


Boyayı su içerisine damlattığımızda tanecikleri her yere dağılır.

Bütün bu olaylar maddenin bütünsel değil taneciklerden oluştuğunu ispatlar.

Maddenin halleri

Madde katı, sıvı ve gaz olarak üç halde bulunur.

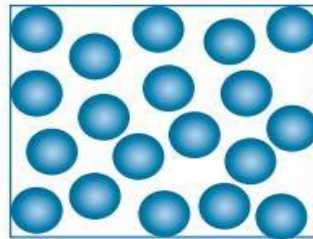
1. Katı hal



Katı modeli

- *Maddenin en düzenli halidir.
- *Taneciklerin arasındaki boşluk çok azdır.
- *Sıkıştırılamaz.
- *Akışkan değildir.
- *Belirli bir şekli ve hacmi vardır.
- *Tanecikler titreşim hareketi yapar, öteleme ve dönme hareketi yapmaz.

2. Sıvı hal




Sıvı modeli

- *Tanecikleri arasındaki boşluk katılara göre daha fazladır.
- *Sıkıştırılamazlar.
- *Akışkandır.
- *Belirli bir hacmi vardır.

- *Buldukları kabın şeklini alır.
- *Tanecikleri titreşim, dönme ve öteleme hareketi yapar.
- *Sıvı tanecikleri birbirleri üzerinden kayma hareketleri yaparak akışkan özelliği kazanırlar.

3. Gaz hal



Gaz modeli

- *Maddenin en düzensiz halidir.
 - *Tanecikler arası boşluk katı ve sıvılara göre daha fazladır.
 - *Sıkıştırılabilir.
 - *Belli bir hacmi ve şekli yoktur.
 - *Titreşim, öteleme ve dönme hareketi yaparlar.
 - *Akışkandırlar.
 - *Buldukları kabın tamamını doldururlar.
- Madde içinde bulunan tanecikler üç çeşit hareketleri vardır.
Bunlar titreşim, öteleme ve dönme hareketidir.

1) Aşağıdaki cümlelerden hangisi **yanlıştır**?

- A) Sıvı maddeler titreşim hareketi yapar.
- B) Bütün maddeler gözle görülemeyecek kadar küçük taneciklerden oluşmuştur.
- C) Gaz maddeler buldukları kabın her yerini doldurur.
- D) Katı maddeler akışkandır.

2) Aşağıdaki olaylardan hangisi maddenin tanecikli yapıda olduğunu **ispatlamaz**?

- A) Tuzun suda çözünmesi
- B) Mürekkebin suda dağılması
- C) Kokunun havada dağılması
- D) Suyun sıkıştırılamaması

3) Aşağıdaki maddelerden hangisi hem titreşim, hem de öteleme hareketi yapar?

- A) Bardaktaki su
- B) Demir kaşık
- C) Tahta masa
- D) Altın kolye

4) Aşağıdaki maddelerden hangisi hem öteleme yapar, hem de sıkıştırılabilir?

- A) Alkol
- B) Hava
- C) Su
- D) Metal para

5) Ağız kapalı şırınga içerisinde hava bulunmaktadır. Şırınganın pistonuna bastırıldığında havanın sıkıştığı gözlenmektedir.

Yapılan bu deneyle ilgili olarak aşağıdakilerden hangisi **çıkarılamaz**?

- A) Hava tanecikleri arasında çok boşluk vardır.
- B) Hava tanecikli bir yapıdadır.
- C) Hava bütünsel yapıdadır.
- D) Hava sıkıştırılabilir

6) Katı madde hakkında aşağıdakilerden hangisi **yanlıştır**?

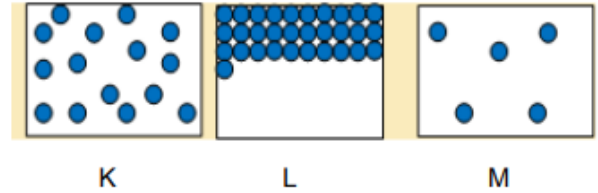
- A) Katı maddenin belirli bir şekli vardır.
- B) Katı maddeler sıkıştırılamaz
- C) Katı maddenin tanecikleri arasında boşluk yok denecek kadar azdır.
- D) Katı maddenin tanecikleri öteleme hareketi yapar.

7) Sıvı madde ile ilgili aşağıdaki verilenlerden hangileri **doğrudur**?

- I. Sıvı maddeler gaz hale geçince tanecikleri arasındaki boşluk artar.
 - II. Sıvı maddeler buldukları kabın şeklini alır.
 - III. Sıvılar sıkıştırılabilir.
- A) II ve III
- B) I ve II
- C) I ve III
- D) I, II ve III

8) Hangisinin tanecikleri öteleme hareketi **yapamaz**?

- A) Oksijen gazı
- B) Süt
- C) Kitap
- D) Parfüm



9) Şekildeki K, L ve M kaplardaki tanecik modeli verilen maddelerin hangileri sırasıyla katı, sıvı ve gaz olabilir?

- A) K, L ve M
- B) L, K ve M
- C) L, M ve K
- D) M, L ve K

10) Aşağıdakilerden hangisi katı sıvı ve gazlar için ortaktır?

- A) Sıkıştırılabilir olmaları
- B) Öteleme hareketi yapmaları
- C) Dönme hareketi yapmaları
- D) Taneciklerden oluşması

11) Aşağıda verilen hal değişim olaylarında tanecikler arası değişimi artar- azalır şeklinde işaretleyiniz.

Hal Değişimi	Tanecikler arası boşluk artar	Tanecikler arası boşluk azalır
Suyun buharlaşması		
Suyun donması		
Buzun erimesi		
Su buharının yoğuşması		

12)

- Kaşık
- Meyve suyu
- Hava

Verilen maddelerin tanecikleri arasındaki boşluklar karşılaştırılırsa nasıl bir sıralama yapılır?

- A) Kaşık> Meyve suyu> Hava
- B) Meyve suyu> Kaşık> Hava
- C) Hava> Meyve suyu> Kaşık
- D) Kaşık> Hava> Meyve suyu

13) Aşağıda bazı hal değişim olayları verilmiştir.

I. Buzun erimesi

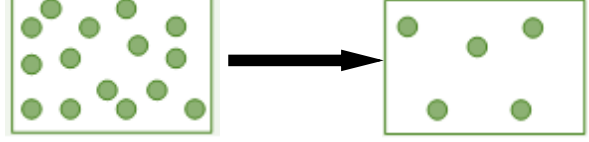
II. Suyun donması

III. Suyun buharlaşması

Verilen bu hal değişimlerinden hangisi ya da hangilerinin gerçekleşmesi sırasında tanecikler arası boşluk artar?

- A) Yalnız I
- B) Yalnız III
- C) I ve III
- D) II ve III

14) Bir maddenin taneciklerindeki değişim verilmiştir.



Taneciklerinde meydana gelen değişim yukarıdaki gibi olan madde hangi haller arasında geçiş yapıyor olabilir?

- A) Gaz Sıvı
- B) Katı Sıvı
- C) Katı Gaz
- D) Sıvı Gaz

15) Fen bilimleri öğretmeni öğrencilere aşağıdaki maddelerin yazılı olduğu kartlar verilmiştir.

- I. Meyve suyu
- II. Tahta
- III. Cam
- IV. Süt
- V. Altın
- VI. Hava

Öğrencilerden bu kartlardan tanecikleri sadece titreşim hareketi yapan maddeleri seçmeleri isteniyor.

Buna göre öğrenciler hangi kartları seçerlerse etkinliği doğru tamamlamış olurlar?

- A) I, III ve VI
- B) II, III ve V
- C) I, III ve IV
- D) Yalnız VI

16)

- Tahta
- Su
- Hava

Verilen maddeleri tanecik hareketliliği en az olandan en çok olana doğru sıralarsak nasıl bir sıralama olur?

- A) Tahta- Hava- Su
- B) Tahta- Su- Hava
- C) Su- Hava- Tahta
- D) Hava- Su – Tahta

17)

- Akışkandır
- Tanecikleri titreşim, öteleme ve dönme hareketi yapar.
- Sıkıştırılmazlar

Yukarıda verilen özellikler aşağıdaki maddelerden hangisine ait olabilir?

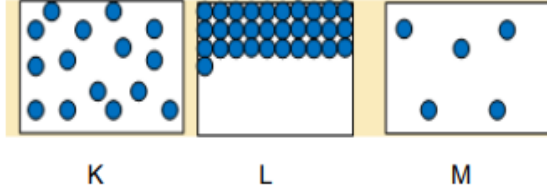
- A) Mermer B) Hava
C) Su D) Tahta kaşık

18) -Isı, ışık, ses ve elektrik gibi maddelerin bir kütlesi ve hacmi olmadığı için değildir.

Yukarıda boş bırakılan yere hangisi gelmelidir?

- A) Madde B) Yoğunluk
C) Kuvvet D) Basınç

19)



Yukarıda verilen maddelerin taneciklerinin fiziksel hallerine uygun olarak aşağıdaki yorumlardan hangisi yapılamaz?

- A) K ve L deki tanecikler titreşim hareketi yaparlar.
B) M deki tanecikler sadece öteleme ve dönme hareketi yaparlar.
C) K deki tanecikler akışkandır.
D) L deki tanecikler diğerlerine göre daha düzenlidir.

20) Maddeler tanecikleri ve hal değişimi için aşağıda verilen bilgilerden hangisi yanlıştır?

- A) Madde eridiği zaman taneciklerin hareketi artar
B) Maddeler ısı verirse, taneciklerin hareketi azalır.
C) Maddeler ısı alırsa enerjisi ve hareketi artar.
D) Madde hal değiştirirken tanecikler arasındaki mesafe değişmez

1)Birey olarak dünyaya geldiğimiz andan itibaren çeşitli sosyal roller üstleniriz. Rollerimizin bir kısmı doğuştan sahip olduğumuz rollerdir. Bazı rollerimizde vardır ki bunlara isteğimizle çalışarak, başarı göstererek sonradan sahip oluruz. Bunlar özgür irademizle katıldığımız grupların bize yüklediği rollerdir.

Yukarıda verilen açıklamaya göre aşağıdakilerden hangisi sonradan kendi isteğimizle elde ettiğimiz rollerdendir?

- A) Kardeş
- B) Abla
- C) Anne – Baba
- D) Torun

2)Bir kimse veya bir şeyle ilgili olarak önceden edinilmiş olumlu ve olumsuz düşüncelere denir.

Yukarıdaki tanım cümlesinde boş bırakılan yere aşağıdakilerden hangisi getirilir?

- A) Kültür
- B) Ön yargı
- C) Ayrımcılık
- D) Çatışma

3) Sivil Toplum Kuruluşları, toplum içinde yardımlaşma ve dayanışma sağlamak için gönüllü bireyler tarafından kurulan ve kar amacı gütmeyen kurumlardır.

Aşağıdakilerden hangisi bir sivil toplum kuruluşu değildir?

- A) LÖSEV (Lösemi Vakfı)
- B) MEB (Mili Eğitim Bakanlığı)
- C) TEMA (Türkiye Erozyonla Mücadele, Ağaçlandırma ve Doğal Varlıkları Koruma Vakfı)
- D) TEV (Türk Eğitim Vakfı)

4) **Aşağıdakilerden hangisi Sosyal yardımlaşma ve dayanışmanın sağlayacağı bireysel ve toplumsal katkılardan değildir?**

- A) İnsanlarla iletişimimizi artırır.
- B) Bir arada yaşamamızı sağlar.
- C) Sosyal bağlarımızı güçlendirir.
- D) Sürekli mutlu olmamızı sağlar.

5) Bundan birkaç yüzyıl önce, sağlıklı bir çevrede yaşama hakkında söz edilmezdi. Ancak günümüzde çevre kirliliği, böyle bir hakkın varlığını gerekli kılmıştır.

Yukarıdaki açıklamada esas anlatılmak istenen aşağıdakilerden hangisidir?

- A) Son yüzyılda çevre kirliliği artmıştır.
- B) İnsan hakları tarihsel süreç içerisinde sürekli gelişmekte ve değişmektedir.
- C) Çevre kirliliği tüm canlıların yaşamını tehdit eder.
- D) Önceki yüzyıllarda çevre kirliliği son yüzyıldaki kadar çok değildi.

6)Orta Asya'da Hunlara ait olduğu kabul edilen bir kurganda yapılan kazılar sonucu altın ve gümüş eşyalar, halı ve kilimler, demir, kılıç ve at koşum takımlarına rastlanmıştır.

Verilen bilgilere göre Orta Asya Türk Devletleri ile ilgili aşağıdakilerden hangisine ulaşamaz?

- A) Atı evcilleştirdikleri
- B) Madencilikle uğraştıkları
- C) Yerleşik hayata geçtikleri
- D) Dokumacılıkla ilgilendikleri

7) Aşağıdakilerden hangisi Orta Asya'da kurulan Türk devletlerinden biri değildir?

- A) Karahanlı Devleti
- B) Uygur Devleti
- C) Asya Hun Devleti
- D) Göktürk Devleti

8) Eski Türkler arasında Gök Tanrı inancı yaygındı. Ölen kişileri eşyaları ile birlikte yuğ adı verilen bir törenle gömerlerdi. Ölen kişi "kurgan" denilen mezara değerli eşyaları ile birlikte gömülürdü.

Yukarıda verilen metinde asıl anlatılmak istenen aşağıdakilerden hangisidir?

- A) Türkler ölümden sonraki yaşama inanırlar.(ahiret inancı)
- B) Türkler konargöçer bir yaşam sürerler.
- C) Türklerde törenler büyük öneme sahiptir.
- D) Bu gelenekler günümüzde de devam etmektedir.

9) İlk Türk Devletlerinde Türkler, yılın belli bölümlerinde mevsim koşullarına göre yerlerini değiştirerek konargöçer (göçebe) bir hayat tarzı yaşamakta ve daha çok hayvancılık ile uğraşmaktaydılar. Buna göre;

Aşağıdakilerden hangisi Türklerin Konargöçer bir yaşam sürmelerinin sonuçlarından değildir?

- A) Hapis cezaları çok uzun sürmezdi
- B) Tarımla uğraşmışlar
- C) Ev –saray-tapınak gibi mimari eser yapmamışlardır.
- D) Sanat eserleri kemer-kilim gibi taşınabilir eserlerdir.

10) İpek Yolu, Çin'den başlayıp Orta Asya ve Anadolu üzerinden geçerek Avrupa'ya kadar uzanan tarihin en önemli yollarından biri olmuştur. Yüzyıllar boyunca İpek Yolu üzerinde tüccarlar büyük kervanlar ile ticaret yapmış, yolculukları sırasında uğradıkları ülkelerin, şehirlerin ve köylerin yemeklerini, sanatlarını, kıyafetlerini öğrenmişlerdir. Bunun yanında İpek Yolu birçok devlete cazip gelmiş ve savaşların çıkmasına sebep olmuştur. Parçada İpek Yolunun hangi alandaki etkilerine değinilmemiştir?

- A) Kültürel
- B) Ekonomik
- C) Siyasi
- D) Dini

11) Aşağıdakilerden hangisi Peygamberimiz Hz. Muhammed (S.A.V) döneminde yaşanan bir olay değildir?

- A) Uhut Savaşı
- B) Bedir Savaşı
- C) Hendek Savaşı
- D) Sıffin Savaşı

12)

--- Kuranı Kerim kitabı haline..... döneminde getirildi.

--- Kuranı Kerim çoğaltılarak diğer şehirlere döneminde gönderilmiştir.

Yukarıdaki boşluklara sırasıyla aşağıdaki hangi halifeler gelmelidir?

- A) Hz. Osman -Hz. Ebubekir
- B) Hz. Ebubekir- Hz. Ali
- C) Hz. Ebubekir - Hz. Osman
- D) Hz. Osman- Hz. Ali

--- Halifeliği saltanat (babadan oğula geçiş) haline getirdiler.

--- Arap olmayanlara kötü davrandılar, İslamiyet'i baskı (kılıçla) yoluyla kabul ettirmeye çalışarak Arap milliyetçiliği yaptılar.

13) Yukarıdaki açıklamalar aşağıdakilerden hangisi ile ilgilidir?

- A) Abbasi Devleti
- B) Emevi Devleti
- C) Hz. Muhammed Dönemi
- D) Dört Halife Dönemi

--- Başta Türkler olmak üzere tüm Müslümanlara eşit davrandılar. Türklerle iyi davranmaları Türklerin İslamiyet'e girmesini kolaylaştırdı.

--- Türkler devlet yönetiminde görev aldılar. Türk askeri ve aileleri için Samarra şehrini kurdular.

14) Yukarıdaki açıklamalar aşağıdakilerden hangisi ile ilgilidir?

- A) Abbasi Devleti
- B) Emevi Devleti
- C) Dört Halife Dönemi
- D) Hz. Muhammed Dönemi

• Orta Asya'da Çin baskısı ortadan kalktı.

• İslamiyet Orta Asya'da yayılmaya başladı.

• İlk Müslüman Türk Devletleri kurulmaya başladı.

15) Yukarıda verilen bilgilerin aşağıdaki hangi olayın sonucunda ortaya çıktığı söylenebilir?

- A) Talas Savaşı
- B) Dandanakan Savaşı
- C) Malazgirt Savaşı
- D) Haçlı Seferleri

Karahanlı Devletine ait;

- I. Selçuklulara karşı mücadele ettiler.
- II. Türk tarihindeki ilk kervansarayları kurdular.
- III. Resmî dil olarak Türkçeyi kullandılar.
- IV. Hükümdarlarına "han" unvanı verdiler.

16) Yukarıda verilen Karahanlılara ait özelliklerden hangisi veya hangilerinin bu devletin millî karakterini öne çıkardığı söylenebilir?

- A) Yalnız I
- B) Yalnız III
- C) III ve IV
- D) II, III ve IV

17) Malazgirt Zaferi'nden sonra Anadolu'da kurulan ilk Türk beyliklerine ait;

- Tokat Niksar'da Anadolu'daki ilk medreselerden biri olan Yağlıbasan Medresesi
- Erzincan Tercan'da içerisinde kervansaray, hamam, mescit ve türbe olan Mama Hatun Külliyesi
- Sivas'ta taş işlemleri ile ünlü Divriği Ulu Camii
- Diyarbakır'da dünyanın en büyük taş kemerine sahip olan Malabadi Köprüsü yapılmıştır.

Buna göre Anadolu'da kurulan ilk Türk beylikleri ile ilgili aşağıdaki yargılardan hangisine ulaşılamaz?

- A) Askerî yapıların inşa edilmesine önem vermişlerdir.
- B) Ticaretin gelişmesine yönelik yapılar inşa etmişlerdir.
- C) Mimari alandaki çalışmalarla Anadolu'yu bayındır hâle getirmişlerdir.
- D) Anadolu'da bilim ve eğitim hayatının gelişmesine yönelik faaliyetlerde bulunmuşlardır.

•En parlak dönemi Sultan Mahmut dönemidir.

•Sultan Mahmut Hindistan'a 17 sefer düzenleyerek İslam'ı yaymış ve Hindistan'ın zenginliğini ülkesine getirmiştir.

•Hükümdar Mahmut Sultan unvanını kullanan ilk hükümdardır.

•1040 yılında Selçuklular ile yapılan Dandanakan Savaşı ile dağılmaya başlamıştır.

18) Yukarıdaki açıklamalar aşağıdaki hangi devletle ilgilidir?

- A) Karahanlı Devleti
- B) Anadolu Selçuklu Devleti
- C) Büyük Selçuklu Devleti
- D) Gazneli Devleti

• Türkiye tarihinin başlangıcı olarak kabul edilir.

• Anadolu'nun kapıları Türklere açılmıştır.

• Türkler kalabalık gruplar halinde Anadolu'ya göç etmeye başlamıştır.

• Haçlı Seferleri'nin başlamasına ortam hazırlamıştır. Pasinler Savaşı

19) Yukarıda özellikleri verilen savaş aşağıdakilerden hangisidir?

- A) Pasinler Savaşı
- B) Malazgirt Savaşı
- C) Miryokefalon Savaşı
- D) Talas Savaşı

20) Türklerin İslamiyet'i kabul etmelerinde etkili olan faktörler arasında aşağıdakilerden hangisi yer almaz?

A) Ticaret amacıyla İslam beldelerine giden Türk tüccarlar, Müslümanları ve İslam dinini tanıma fırsatı bulmaları.

B) 1071 yılında yapılan Malazgirt Savaşı ile Türklerin Arapları Çinlilere karşı desteklemeleri.

C) Türkistan'a gelen Müslüman tüccarların dürüstlükleri Türklerin İslamiyet'e olan ilgisini arttırması.

D) Türklerin İslamiyet'i kabul etmelerinde Gök Tanrı inancında İslamiyet'e benzer yönlerin olması.(ölümden sonra hayat, cennet ve cehennem anlayışı gibi)

1) Aşağıda verilen bilgilerden hangisi yanlıştır?

- A) Kuran-ı Kerim tüm insanlığa gönderilmiştir.
- B) Kuran-ı Kerim son ilahi kitaptır.
- C) Bütün ilahi kitaplar indirildiği şekliyle günümüze ulaşmıştır.
- D) Kuran-ı Kerim evrensel bir ilahi kitaptır.

2) Allah'ı (c.c) birleme,onun tek ve eşsiz olduğuna inanma,hiçbir şeyi Allah'a(c.c) ortak koşmamaya ne ad verilir?

- A) Tekbir
- B) Teşrik
- C) Tesbih
- D) Tevhid

3) Aşağıdaki ilahi kitaplarla ilgili bilgilerden hangisi yanlıştır?

- A) Tevrat Hz.Musa'ya(a.s) gönderilen bir ilahi kitaptır.
- B) Zebur'da genel olarak ilahiler,yakarışlar ve ahlaki öğütler yer alır.
- C) İncil'e Ahd-i Cedid'de denir.
- D) Yahudiler Zebur'a Tora ismini verdiler.

4)Aşağıdaki kavramlardan hangisi veya hangileri peygamberlik anlamına gelir?

- I.Nübevvet
 - II.Emanet
 - III.Risalet
- A) Yalnız I B) Yalnız III.
C) I. ve III. D) I. , II. ve III.

5) Aşağıdaki peygamberlerin niteliklerinden hangisi peygamberlerin akıllı ve zeki olmasını ifade eder?

- A) Sıdk B) Fetanet
- C) Emanet D) İsmet

6)Aşağıdaki Hz.Adem(a.s) ile ilgili bilgilerden hangisi yanlıştır?

- A) Resul peygamberlendendir.
- B) İlk insan ve ilk peygamberdir.
- C) Şeytanın önünde eğilmiştir.
- D) Bir süre cennette yaşamıştır.

7)"Allahümme nestainüke" ve" Allahümme iyyake na'büdü" ifadeleriyle başlayan dua veya dualar aşağıdakilerden hangisidir?

- A)Rabbena Duaları
- B)Sübhaneker Duaları
- C)Kunut Duaları
- D)Cenaze Duası

1. Farz olan bir ibadettir.
2. Cuma namazını kılan bir kişi öğle namazı kılmaz.
3. Her zaman cemaatle kılınması gerekmez.
4. Cuma namazını kılamayacak geçerli sebebi olan kimseler o günün öğle namazını kılabirler.
5. Cuma namazı toplamda on dört rekattır.

8)Yukarıda cuma namazı hakkında verilenlerden hangileri yanlıştır ?

- A) Yalnız 2
- B) 3 ve 5
- C) 2, 3, 4
- D) 1, 2, 3

9) Müslümanların bir kısmının kılmasıyla diğerlerinden kılma yükümlülüğünün kalktığı namaz hangisidir?

- A) Bayram namazı
- B) Beş vakit namaz
- C) Cuma namazı
- D) Cenaze namazı

10)Aşağıdakilerden hangisi gusül abdestinin farzlarından biri değildir?

- A) Ağza su vermek
- B) Buruna su vermek
- C) Başı mesh etmek
- D) Tüm vücudu yıkamak

Namaz ibadeti ilk insan Hz. Adem'den beri olan bir ibadettir. Biz Müslümanlara ise beş vakit olarak farz kılınmıştır.

11)Yukarıda boş bırakılan yere hangi zaman dilimi gelmelidir?

- A) Miraç gecesinde
- B) İlk vahiyle birlikte
- C) Hicret esnasında
- D) Hicretin 2. yılında

12)Bir namazın ilk rekatında sırasıyla aşağıdakilerden hangileri okunur.

- A) Sübhaneke-Fatiha-Bir sure
- B) Besmele-Fatiha-Bir sure
- C) Sübhaneke-Ezü besmele-Fatiha-Bir sure
- D) Sübhaneke-Fatiha-Besmele-Bir sure

13)Aşağıdakilerden hangisi yanlıştır?

- A) Müezzin: Ezan okuyan kişi.
- B) Kamet: Namaz sonunda yapılan dua.
- C) İmam: Camide cemaate namaz kıldıran, önde olan.
- D) Hutbe: Cuma ve Bayram namazlarında İmam tarafından yapılan konuşma

- I. Alkol aldıktan sonra araba kullanmak
- II. Namaz kılmamak
- III. Sigara izmaritini yere atmak

14) Yukarıda numaralanmış cümlelerden hangileri kul hakkı olarak değerlendirilmez?

- A) Yalnız I.
- B) Yalnız II.
- C) Yalnız III.
- D) I ve III.

15)Aşağıdakilerden hangisi zararlı alışkanlıklardan korunma yollarından biri değildir?

- A) Boş zamanımızda spor yapmak
- B) Kütüphaneye gidip kitap okumak
- C) Zararları alışkanlıklar ile ilgili eğitimlere gitmek
- D) Kötü arkadaş çevresi edinmek

16)Aşağıdaki ayetlerden hangisinin içerik olarak diğerlerinden farklıdır?

- A) "Birbirinizin malını haksız yollarla yemeyin"
- B) "Ey iman edenler! Mallarınızı aranızda hırsızlık, rüşvet, faiz ve kumar gibi meşrû olmayan yollarla yemeyin"
- C) "Ey iman edenler! İçki, kumar, tapınmak ve putlara kurban kesmek için dikilen taşlar, fal ve şans okları şeytan işi birer pisliktir. Bunlardan kaçının ki kurtuluşa eresiniz"
- D) "Namazı dosdoğru kılın, zekatı verin ve rüku edenlerle birlikte siz de rüku edin"

17)Aşağıdakilerden hangisi zararlı alışkanlıklara başlamaya neden olabilir?

- A) Kötü ortamlardan uzak durmak
- B) Bana bir şey olmaz diyerek merakımızı gidermek.
- C) Ebeveynlerimizin nasihatlerini dinlemek
- D) Zararlı alışkanlıklar ile ilgili bilinçlenmek

18)Aşağıdakilerden hangisi sigaranın bireye verdiği zararlardan biri değildir?

- A) Gözlerde katarakt ve ileri yaşta körlük meydana gelir.
- B)Kemik ve iskeletlerde kemik erimesi meydana gelmesini sağlar.
- C)Ağız ve boğaz kanseri riskini artırır.
- D) Boşanmalara neden olur.

19)Aşağıdakilerden hangisi alkol ve uyuşturucunun bireysel zararlardan biridir?

- A)Ailelerin parçalanması neden olur.
- B)Trafik kazalarına neden olur.
- C)Aile içi şiddete neden olur.
- D)Dikkat dağılmasına neden olur.

20)Aşağıdakilerden hangisi zararlı alışkanlıklara başlama sebeplerinden biri değildir?

- A)İrade zayıflığı
- B) Özenme
- C)İyi aile ortamı
- D)Aşırı merak ve ilgi

1) Which of the following shows how Sally feels about roller coasters?

Hi! I'm Sally. The roller coaster is my favourite ride. I think it's amazing. I love riding roller coasters at the funfairs.



A)



C)



B)



D)



2) Choose the best option to fill in the blank.



Susan : What do you think about funfairs?

Alan : I think they are very boring. Parks are greener than funfairs. I like walking in the park.

Susan : ----- . I think fairs are more interesting than parks.

A) You're absolutely right.

B) I don't agree with you.

C) I strongly agree with you.

D) I find them amazing.

3) Find the option that completes the dialogue best.

Nancy : Do you like the carousel?

Janet : I don't like it. I think it is ----- .

A) dull

C) terrific

B) thrilling

D) amazing

4)

Fairs are very fun,
Especially with the sun.
You can play about,
And scream and shout!

Roller coasters are frightening,
Ghost trains are thrilling,
Hall of mirrors are funny,
Toffee apples are yummy!



According to the poem above -----

- A) fun fairs are terrifying places
- B) you feel upset at the fairs
- C) you can feel scared in the roller coaster
- D) ghost trains are frightening

5) Put the sentences into the correct order to make a dialogue.

- I. Oh, I hate it. I think it is dull.
- II. Do you want to ride the bumper cars?
- III. What about getting on the roller coaster, then?
- IV. Yeah! I like being in the air. I think it's really thrilling.

- A) IV-I-II-III
- B) I-II-III-IV
- C) IV-I-II-III
- D) II-I-III-IV

6) Which of the following is NOT correct according to the table?

	fun fairs? parks?	riding roller coasters	riding ghost trains	walking in the park
Frank	fun fairs ✓ exciting	😊	😊	😞
Gina	fun fairs ✓ colourful	😊	😞	😞
Martha	parks ✓ green	😞	😞	😊
Roy	fun fairs ✓ interesting	😊	😞	😊
You				

- A) Martha thinks parks are greener than fairs. She likes walking in the park.
- B) Gina likes riding roller coaster but she doesn't like riding ghost trains.
- C) Roy finds fun fairs boring. He doesn't like riding roller coasters.
- D) Frank thinks fairs are more exiting than parks.

Hi! I'm Marry. I like many games and fair rides, but my favourite one is the ferris wheel. I love riding ferris wheel. I think it's more exiting than the other fair rides at the funfair.

7) Which of the following rides does Marry like riding at the funfairs?

A)



C)



B)



D)



8) Choose the best option to fill in the blanks.

Gina : I don't want to get on the roller coaster because they are -----.

Roy : ----- . I think they are amazing and thrilling.

- A) frigtening / I agree
- B) amazing / I don't think so
- C) thrilling / I think so
- D) terrifying / I disagree

9-10 : Answer the questions according to the poster below



9) According to the information above, we can say that -----.

- A) you can get on the roller coaster at the funfair
- B) the funfair opens at 8.30 a.m. and closes at half past three
- C) children can't play games at the funfair
- D) the funfair is on June 25th, 2021

10) Which of the following questions does NOT have an answer in the poster?

- A) What is the date of the funfair?
- B) Do you like funfairs or parks?
- C) Where is the funfair?
- D) What time does the funfair open?

11)



Which ride is shown in the picture above?

- A) Bumper cars
- B) Carousel
- C) Ghost train
- D) Roller coaster

12) My brother likes funfairs. He thinks they are -----.

- A) amazing
- B) boring
- C) scary
- D) horrible

Stan: My favorite ride is carousel.

Kyle: I think carousel is boring, I prefer roller coaster.

Eric: I find bumper cars very exciting.

13) Which of the following rides is not mentioned above?

A)



B)



C)



D)



14)

Tom: I don't like ghost trains. I think they are terrifying.

Jerry: I ----- with you. I think they are fun.

- A) agree
- B) don't
- C) disagree
- D) am

15) I think carousels are -----, they make me ----- . I prefer roller coasters.

- A) exciting - scared
- B) boring - sleepy
- C) scary - excited
- D) dull - interesting

16) There was a ----- at the birthday party.



- A) clown
- B) musician
- C) food
- D) doctor

17) We need to buy ----- to ride the ferris wheel.



- A) tickets
- B) food
- C) drinks
- D) book

18) I like toffee apples. I think they are -----.



- A) horrible
- B) delicious
- C) disgusting
- D) boring

19) Ali likes roller coaster ----- Ayşe.

- A) isn't
- B) can
- C) more than
- D) than

20) According to the following pictures, which of the following is TRUE about John?



- A) He thinks carousel is more fun than bumper cars.
- B) He doesn't like ghost train as much as carousel.
- C) He likes bumper cars more than carousel.
- D) He doesn't like bumper cars.

CEVAP ANAHTARI

TÜRKÇE

- 1) A
- 2) D
- 3) B
- 4) A
- 5) C
- 6) B
- 7) D
- 8) A
- 9) C
- 10) D
- 11) B
- 12) D
- 13) C
- 14) A
- 15) A
- 16) D
- 17) B
- 18) A
- 19) D
- 20) D

SOSYAL BİLGİLER

- 1) C
- 2) B
- 3) B
- 4) D
- 5) A
- 6) C
- 7) A
- 8) A
- 9) B
- 10) D
- 11) D
- 12) C
- 13) A
- 14) A
- 15) C
- 16) A
- 17) A
- 18) D
- 19) B
- 20) B

MATEMATİK

- 1) D
- 2) C
- 3) A
- 4) A
- 5) C
- 6) B
- 7) A
- 8) D
- 9) C
- 10) A
- 11) D
- 12) D
- 13) B
- 14) D
- 15) B
- 16) B
- 17) D
- 18) D
- 19) B
- 20) A

DİN KÜLTÜRÜ VE
AHLAK BİLGİSİ

- 1) C
- 2) D
- 3) D
- 4) C
- 5) B
- 6) A
- 7) C
- 8) B
- 9) D
- 10) C
- 11) A
- 12) C
- 13) B
- 14) B
- 15) D
- 16) D
- 17) B
- 18) D
- 19) D
- 20) C

FEN BİLİMLERİ

- 1) D
- 2) D
- 3) A
- 4) A
- 5) C
- 6) D
- 7) B
- 8) C
- 9) B
- 10) D
- 11) Artar
Azalır
Artar
Azalır
- 12) C
- 13) C
- 14) D
- 15) B
- 16) B
- 17) C
- 18) A
- 19) B
- 20) D

İNGİLİZCE

- 1) A
- 2) B
- 3) A
- 4) C
- 5) D
- 6) C
- 7) B
- 8) D
- 9) A
- 10) B
- 11) C
- 12) A
- 13) D
- 14) C
- 15) B
- 16) A
- 17) A
- 18) B
- 19) C
- 20) C

EMEĞİ GEÇEN ÖĞRETMENLERİMİZ

SIİRT MİLLİ EĞİTİM AR-GE BİRİMİ

MURAT EKİNCİ

Koordinatör Okul Müdürü

KÜBRA SARAN

Bilişim Teknolojileri Öğretmeni

Reva KAYA
Özge SEZER
Türkçe Öğretmenleri

AHMET ALTUN
Fen Bilimleri Öğretmeni

BETÜL SEVGİ
ESMA PEKDOĞAN
M. EMİN ULU
**Din Kültürü ve Ahlak Bilgisi
Öğretmenleri**

ÖMER SEVİNGEN
SÜLEYMAN KAYAN
NAZIM TAHTACI
ABDULLAH ŞALCI
Matematik Öğretmenleri

AGİT DÜNDAR
Sosyal Bilgiler Öğretmeni

MAHSUN KAYA
ALİ EMRE ATEŞ
İngilizce Öğretmenleri